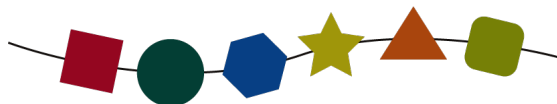
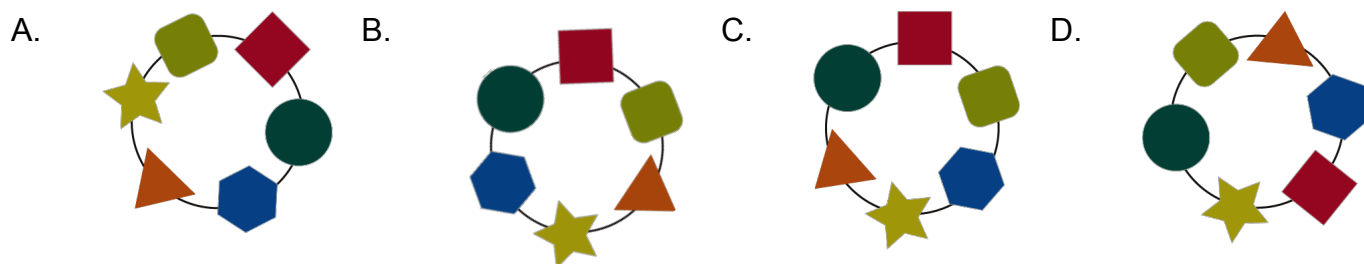


Zapestnica

Bobrovki Emi se je strgala najljubša zapestnica. Videti je tako:






Zdaj kupuje novo. Katera od spodnjih je enaka tisti, ki jo je imela prej?




Sanjska obleka

Bobrovka Katja kupuje sanjsko obleko. Imeti mora **kratke rokave**, **več kot tri gumbe** in **zvezdice na rokavih**. Obkroži trgovino, v kateri prodajajo takšno obleko.



Čez drn in strn

Bobri Rozika, Borut in Zala se bodo pomerili v teku. Najprej tečejo navzgor, nato čez skale, navzdol in spet čez skale.




Začeli bodo v vrstnem redu Rozika, Borut, Zala.


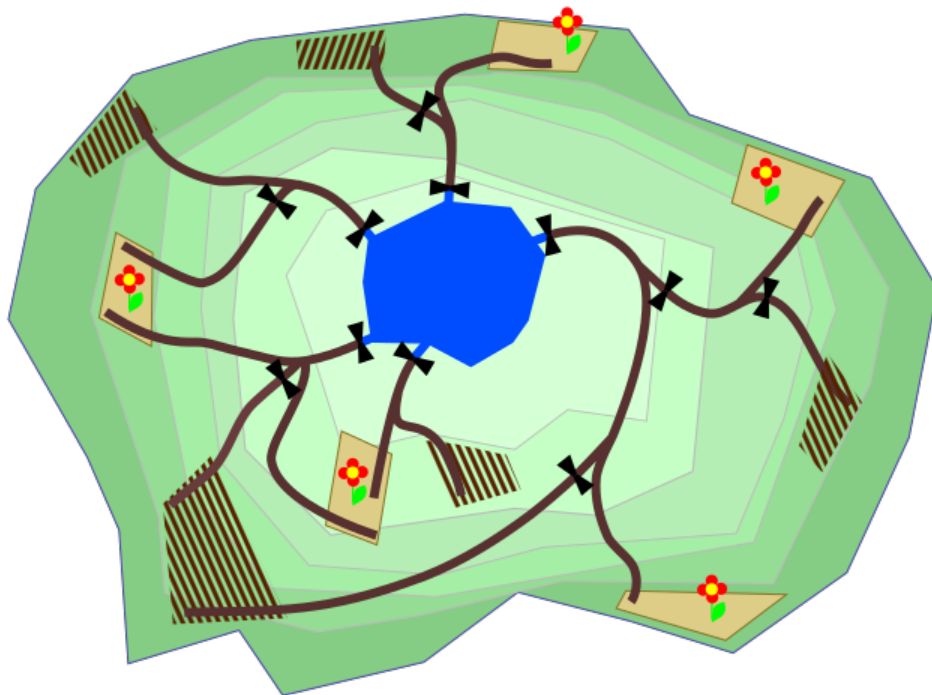
- Borut bo prehitel enega tekača pred seboj med tekom na hrib.
- Rozika bo prehitela enega tekača pred seboj med tekom po hribu navzdol.
- Zala bo prehitela enega tekača pred seboj med vsakim tekom čez skale.

V kakšnem vrstnem redu bodo končali tekmovanje?

Zalivanje

Bobrova družina Breznik želi zaliti svoja cvetlična polja. Z dvigom vodne zapore () bo voda tekla po vodovodnih ceveh iz jezera na vrhu hriba do vznožja hriba.

Pomagaj jim! Obkroži vodne zapore, ki jih morajo dvigniti, da zalijejo **samo** cvetlična polja.



Grede, ki jih je potrebno zaliti

Grede, ki jih ne smemo zaliti



Pogrinjek

Bober Bob je pripravil pogrinjek. V kakšnem vrstnem redu je postavil predmete na mizo?

Obkroži pravilni odgovor.

- A. Prt, prtiček, skodelica s krožničkom, nož, krožnik
- B. Prt, skodelica s krožničkom, prtiček, krožnik, nož
- C. Prt, prtiček, skodelica s krožničkom, krožnik, nož
- D. Prtiček, nož, prt, skodelica s krožničkom, krožnik



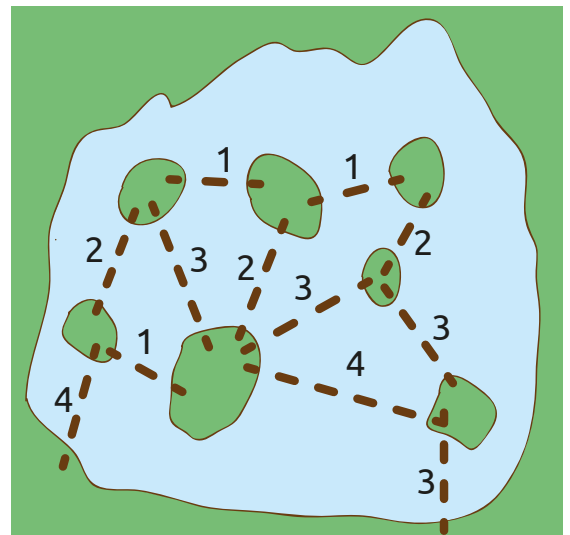
Povezani otoki

Sedem otokov bomo povezali z mostovi.

Črte kažejo, kje lahko postavimo mostove. Številke povejo, koliko hlodov je potrebnih za vsak most.

Ne bomo postavili vseh mostov, temveč le toliko, kolikor je potrebno, da bomo lahko prišli na vsak otok.

Najmanj koliko hlodov potrebujemo?




Očala













Vsak izraz na obrazu se ujema z eno obliko očal:



Tule imamo štiri obraze.



Očala jim bomo razdelili po enem od spodnjih vrstnih redov. Pri katerem bomo naredili najmanj napak?

A.    	B.    
C.    	D. 